



13



12

La surface  
a-t-elle  
des dimensions ?

11



10




9




14




23



22




21



8

Qu'est-ce qu'un  
polygone ?


15



24

Nommez tous les  
polygones  
représentés sur  
cette feuille


25



20

Un polygone  
a-t-il  
autant d'angles  
que de côtés ?


7




16

Par quoi  
un polygone est-il  
limité ?


17




18




19




6




1



2



3



4

Qu'est-ce qu'une  
surface ?  
a-t-elle une  
épaisseur ?

5





9	10	11	12	13
Le triangle isocèle	Le triangle rectangle	Le triangle scalène	Donnez un exemple de triangle isocèle?	Le carré
8	21	22	23	14
Donnez un exemple de trapèze isocèle?	Le trapèze scalène	Le pentagone régulier	L'hexagone régulier	Le rectangle
7	20	25	24	15
Le triangle équilatéral	Donnez un exemple d'ovale	Quadrilatère quadrangulaire irrégulier	Donnez un exemple de triangle équilatéral?	Le losange
6	19	18	17	16
La couronne	Le trapèze rectangle	Le trapèze isocèle	Le parallélogramme	Nommez les figures limitées par des droites
5	4	3	2	1
L'ellipse	Nommez les figures limitées par des courbes	L'ovale	L'ove	Le cercle